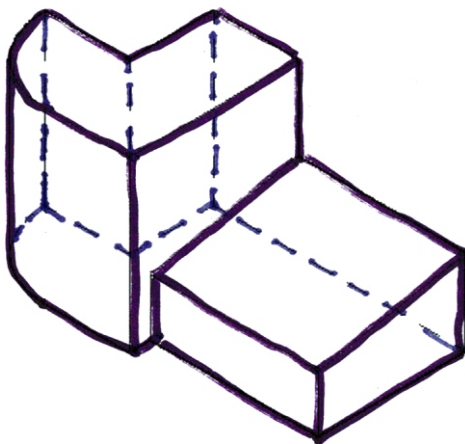
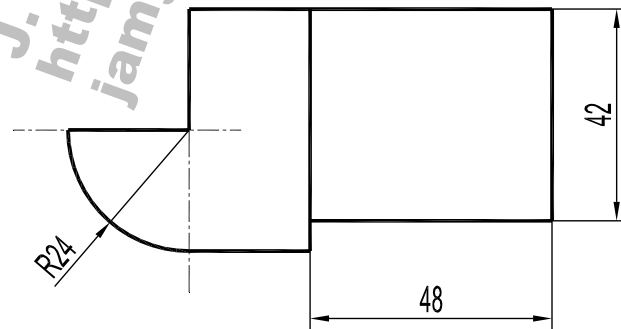
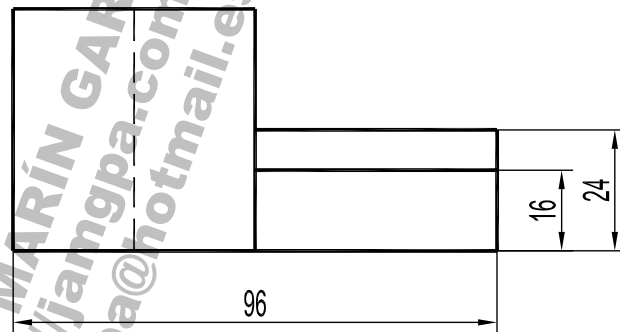
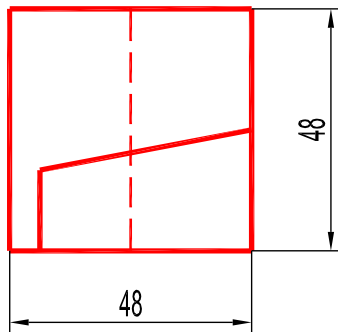


10. Dados el alzado y la planta de una pieza representados a escala 2:3 en el sistema diédrico europeo:

- Represente la vista lateral derecha delineada con todas sus aristas ocultas (1 p.).
 - Acote completamente la pieza según las normas (1 p.).
 - Represente en croquis (a mano alzada) una vista axonométrica de la pieza (1 p.). Se valorará el dibujo de las aristas ocultas necesarias para mostrar la forma de todas las partes de la pieza.
- (3 PUNTOS)

10. Donats l'alçat i la planta d'una peça representats a escala 2:3 en el sistema dièdric europeu:

- Representeu la vista lateral dreta delineada amb totes les arestes ocultes (1 p.).
 - Acoteu completament la peça segons les normes (1 p.).
 - Representeu en croquis (a mà alçada) una vista axonomètrica de la peça (1 p.). Es valorarà el dibuix de les arestes ocultes necessàries per a mostrar la forma de totes les parts de la peça.
- (3 PUNTS)



JAMGPA